

# AMANTECH

## داخلے کے ٹیسٹ پیپر کا نمونہ

برائے مہربانی درج ذیل معلومات بغور پڑھیں۔

۱۔ کل 60 سوالات دیئے جائیں گے۔

۲۔ پیپر کو حل کرنے کے لیے کل 60 منٹ کا وقت دیا جائے گا۔

۳۔ ہر سیکشن میں 12 سوالات دیئے جائیں گے۔

سیکشن B: ریاضی

۱	سیٹ A اور سیٹ B کے یونین کو _____ سے ظاہر کیا جاتا ہے۔ A x B (B)      A U B (A) کوئی نہیں (D)      A - B (C)
۲	_____ = A U B A - B (B)      A x B (A) A n B (D)      B U A (C)

سیکشن A: جنرل سائنس

۱	لمبائی کی اکائی _____ ہے۔ (A) سیکنڈ (Sec) (C) کلوگرام (Kg) (B) میٹر (m) (D) کوئی نہیں
۲	CO کس چیز کا مخفف ہے۔ (A) کاربن ڈائی آکسائیڈ (C) کاربن مونو آکسائیڈ (B) کاربن (D) کوئی نہیں





سیکشن D: انگریزی

1	This film is _____ than the last one. (A) Best      (B) Good      (C) Better
2	I want to buy _____ laptop next week. (A) a      (B) an      (C) the

سیکشن C: معلومات عامہ

۱	پاکستان کا سب سے بڑا فوجی اعزاز کونسا ہے؟ (A) نشان امتیاز (C) ستارہ جرات (B) نشان حیدر (D) کوئی نہیں
۲	UN کس کو ظاہر کرتا ہے؟ (A) Undeveloped Nations (C) Understanding Nations (B) United Nations (D) کوئی نہیں

سیکشن E: ذہنی صلاحیت I.Q.

۱	اگر اعداد 5-1-8-4-2-7-3 کو الٹا پڑھا جائے تو یہ 3-7-2-4-8-1-5 ہوگا۔ (A) صحیح (B) غلط
۲	شکل D میں کونسا خانہ پُر کیا جائے گا؟ (A)  (A) (B)  (B) (C)  (C) (D)  (D)